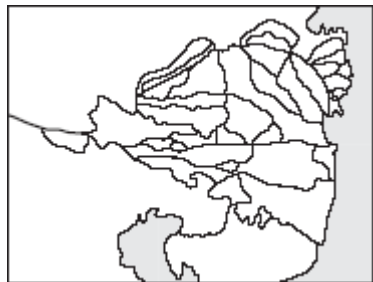


## PONAVLJANJE ZA ISPIT O VODAMA NA ZEMLJI

1. Ispod priloženih crteža napiši tip riječnog ušća i navedi po jedan primjer (ime rijeke) pomoću atlasa.



....., .....

....., .....



2. Na odgovarajuće mjesto upiši imena rijeka i podebljaj ih plavom bojom:

**Mirna,**  
**Krka,**  
**Cetina,**  
**Neretva, Zrmanja,**  
**Dragonja.**

3. U odgovarajuće otoke upiši brojeve:

**1 - Krk**  
**2 - Korčula**  
**3 - Rab**  
**4 - Vis**

4. Olovkom zaokruži dva Vranska jezera u Hrvatskoj.

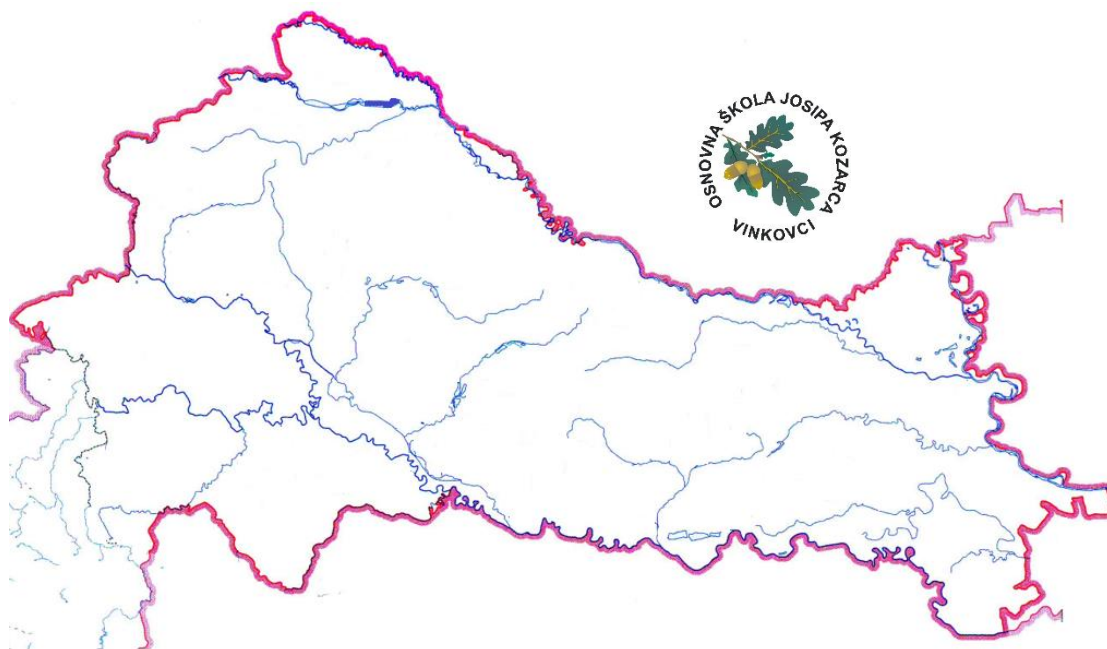
5. Crvenom bojom ucrtaj strelice koje prikazuju morske struje uz hrvatsku obalu.

6. Pored imena rijeke u Primorskoj Hrvatskoj koja je hidroenergetski najiskorištenija upiši HE

7. U Primorskoj Hrvatskoj se nalaze tri solane. Mjesta gdje se nalaze solane označi trokutićem.

8. Na odgovarajuću crtu upiši imena tri najveće hrvatske pomorske luke.

9. Upiši slova: PJ na mjestu gdje se nalaze Plitvička jezera, C za Crveno i M za Modro jezero.



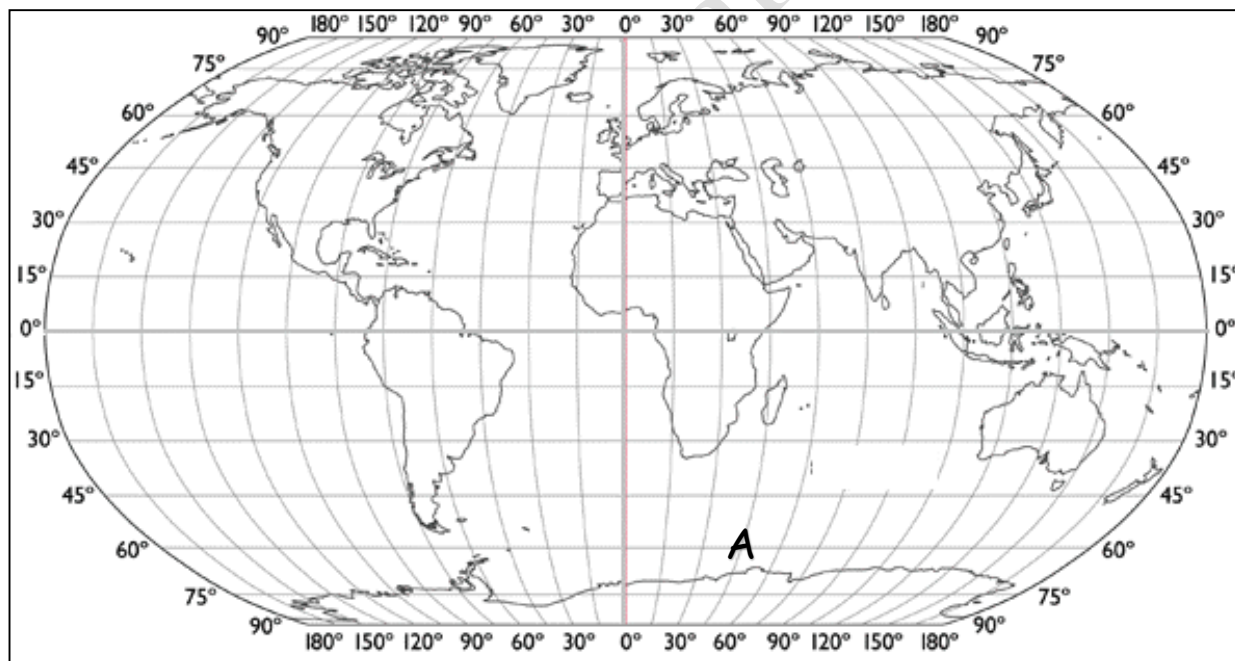
10. Na odgovarajuće mjesto upiši imena rijeka i podebljaj ih plavom bojom: **Sava, Kupa, Drava, Dunav, Bosut, Mura.** Zaokruži ime rijeke koja najdulje teče kroz Hrvatsku
11. Olovkom

zaokruži ribnjake Jasinje.

12. Zelenom bojom označi i upiši imena dviju močvara u Hrvatskoj koje su parkovi prirode.

13. Crvenom bojom oboji najveće umjetno jezero u Hrvatskoj.

14. Pomoću atlasa pronađi i na zemljovidu upiši imena dva lijeva pritoka rijeke Save i jedan desni prtok rijeke Drave. Pored imena rijeke koja je hidroenergetski najiskorištenija upiši HE.



15. Na zemljovidu svijeta žutom bojom oboji Afriku, a crvenom otok Grenland.

16. Na zemljovidu stavi znak X na mjesto koje se nalazi 30° sjeverno i 150° zapadno

17. Odredi smještaj za mjesto na gornjem zemljovidu označeno slovom A=

18. Na zemljovidu plavom bojom oboji površinom najveće jezero na svijetu.

19. Na mjestu Panamskog kanala upiši slovo P, na mjestu Sueskog kanala slovo S, Gibraltarskih vrata GV, Beringov prolaz BP.

20. Sredozemno more na zemljovidu oboji zelenom bojom.

21. Crvenom bojom označi pacifički vatreni prsten.

22. Jedina tvar koja se na Zemlji pojavljuje u tri stanja je ....., a ta stanja su .....,  
..... i .....

23. Poveži pojmove:

- |                             |           |
|-----------------------------|-----------|
| ..... slana voda            | A) 71 %   |
| ..... slatka voda           | B) 97,5 % |
| ..... ukupno vode na Zemlji | C) 2,5 %  |



24. Najviše slatke vode nalazi se u ....., zatim u ..... i  
najmanje na površini.

25. Opiši kruženje vode u prirodi. ....  
.....  
.....

26. Voda ..... reljef Zemlje.

27. Kada sva prirodna bogatstva odgovorno upotrebljavamo kako bi očuvali prirodni okoliš takav  
razvoj nazivamo .....

28. Voda koja se nalazi u šupljinama i pukotinama u podzemlju naziva se .....

29. Dvije najdulje rijeke svijeta su ..... i .....

30. Zašto voda otječe koritom? .....

31. Objasni pojmove:

izvor .....

ušće .....

delta .....

estuarij .....

riječni režim .....

vodostaj .....

razvodnica .....

slijev .....

porječje .....

pritok .....

meandar .....

kriptodepresija .....

morski prolaz .....

morske mijene .....

planktoni .....

razvedena obala .....

dalmatinski tip obale .....

32. Poveži karakteristike tekućice s različitim dijelovima tokova

..... gornji tok tekućice A) brzo otječe, nosi puno nanosa

..... srednji tok tekućice B) sporo teče, vijuga, nosi samo najsitnije čestice (pijesak i mulj)

..... donji tok tekućice C) usporava tekućica i postupno taloži nanose

33. Navedi četiri vrste riječnog režima. ...., ....., ....., .....

34. Rijeka Bosut je ..... prtok rijeke Save.
35. Koja je jedina rijeka Panonske Hrvatske koja ima snježno-kišni režim? .....
36. Udubljenje ispunjeno vodom naziva se .....
37. Najdublje jezero svijeta je .....
38. Najveće jezero svijeta, po površini, je .....
39. Slatkom vodom najbogatije jezero svijeta je .....
40. Jezera prema postanku mogu biti ..... i .....
41. **Zaokruži točan dio tvrdnje.**
- a) Većina jezera je **slatkovodna - slana**.
- b) Kaspijsko jezero ima **slatku - slanu** vodu.
- c) Akumulacijsko jezero je **prirodnog - umjetnog** postanka
42. Navedi četiri vrste prirodnih jezera. ...., ....., ....., .....
43. Navedi tri razloga zašto čovjek stvara umjetna jezera? ....., ....., .....
44. Navedi dvije prednosti hidroelektrana. ...., .....
45. Navedi jedan nedostatak hidroelektrana. ....
46. Objasni pojam biološka raznolikost. ....
47. Navedi jedan primjer kako čovjek smanjuje biološku raznolikost. ....
48. Na kojem se kontinentu nalazi najveća slatkovodna močvara? .....
49. **Prekriži netočan dio tvrdnje.**
- a) **Močvare - jezera** su područja sa slabom prirodnom odvodnjom i pod plitkom stajaćom vodom.
- b) Crveno i Modro jezero kod Imotskog su nastala urušavanjem svodova golemih podzemnih šupljina pa ih ubrajamo u **krška - vulkanska** jezera.
- c) Močvare su plitka i zarasla jezera koja se odlikuju posebnim raslinjem, a najčešće **mahovinom i lišajima - šašem i trskom**.
- d) More se u odnosu na kopno **brže - sporije** grije i hladi.
- e) Što se više udaljavamo od ekvatora mora su sve **toplija - hladnija**.
50. Rijeke Hrvatske pripadaju ..... i ..... slijevu.
51. Najdulja hrvatska rijeka koja ima i izvor i ušće u Hrvatskoj je .....
52. **Prepoznaj pojam.** Šuplja stijena na kojoj nastaju slapovi je .....
- Rijetki, ali jaki izvori iz krškog podzemlja nazivaju se .....
- Rijetki i jaki izvori iz krškog podzemlja, ali ispod morske površine nazivaju se .....
- Kratki priobalni tokovi važni za vodoopskrbu nazivaju se .....
- Rijeke koje teku podzemljem nazivaju se .....
53. Navedi za što se sve može koristiti more. ...., ....., .....
54. Navedi četiri svojstva mora. ...., ....., ....., .....
55. Koliko iznosi slanost svjetskog mora, a koliko Jadranskog? .....
56. Boja i prozirnost mora ovise o ....., ....., .....
57. Navedi tri gibanja mora. ...., ....., .....



58. Izdizanje razine mora naziva se ....., a spuštanje ....., Događa se zbog privlačne sile ..... i .....
59. Glavni uzročnik valova je ....., a morskih struja .....
60. Jadransko more je dio ..... mora. Najveći dio obale i obalnog Jadranskog mora pripada ..... i ..... (navedi imena država).

OŠ Josipa Kozarca, Vinkovci